

**1. Mit tekint a HSZ I. része „bódult állapot”-nak ?**

- a) Az alkohol, kábítószer, illetve gyógyszer vagy más hasonló anyag fogyasztásának következtében fellépő állapotot.
- b) A láthatólag elalvásra hajlamos állapotot.
- c) A reakcióidő növekedésében megnyilvánuló állapotot.
- 

**2. Ki vezethet csónakot a HSZ II. része szerint ?**

- a) Aki a 14. - gépi meghajtású csónak esetén 17. – életévét betöltötte, úszni tud, a vezetésben kellő gyakorlattal rendelkezik, valamint ismeri a HSZ rendelkezéseit és az igénybevett vízterület sajátosságait.
- b) Aki a 18. életévét betöltötte, úszni tudásról szóló igazolással, a vezetésben kellő gyakorlattal rendelkezik, valamint ismeri az igénybevett vízterület sajátosságait.
- c) Alanyi jogon bárki.
- 

**3. Melyik veszély megelőzésére vonatkozik a kötelező gondosság az alábbiak közül ?**

- a) Gázló kialakulása.
- b) Hajózási akadály előidézése.
- c) A csatoló kötelek elszakadása.
- 

**4. Milyen jelzéssel kell ellátni a kitűző hajót ?**

- a) Annak elején egy háromszög alakú, középen zöld színű körrel ellátott vörös színű lobogóval.
- b) Annak elején egy háromszög alakú, középen vörös színű körrel ellátott zöld színű lobogóval.
- c) Zöld színű árbocszalaggal.
- 

**5. Válassza ki azt az előírást, amely a 7 m hosszúságot elérő vagy hosszabb vitorlás kishajóra alkalmazható ! A vitorlás kishajónak menetben viselnie kell:**

- a) közös lámpatestben elhelyezett szokásos oldalfényeket és farfényt az árboccsúcson vagy az árboc felső részén megfelelő helyen.
- b) egy minden oldalról látható szokásos fehér fényt.
- c) egy vörös alatt egy zöld árbocfényt, valamint egy fehér farfényt.
- 

**6. Milyen kiegészítő nappali látjelzést kell mutatnia a műveletképtelen hajónak ?**

- a) Egy vörös lobogót a hajó jobb oldalán olyan magasságban, hogy az jól látható legyen.
- b) Egy kék lobogót a hajó jobb oldalán olyan magasságban, hogy az jól látható legyen.
- c) Egy lengetett vörös zászlót.
- 

**7. Milyen jelzőfény(eke)t kell viselnie - a HSZ I. része szerint - kikötőhelyén veszteglő, szabadon közlekedő kompnak az üzemelés befejeztével ?**

- a) Egy minden oldalról látható fehér fényt.
- b) Egy közepesen erős fehér, és felette kb. 1 m-rel egy zöld fényt, amelyek minden oldalról láthatók.
- c) Oldalfényeket és fehér farfényt.
- 

**8. Mely jelzéseket alkalmazhatja az alábbiak közül a segítséget kérő, veszélyben levő hajó ?**

- a) Alulról felfelé mozgatott sárga fényt.
- b) Villogó fehér fényt.
- c) Körkörösen mozgatott fényt.
- 

**9. Milyen időtartamú a harangkongatás ?**

- a) Legalább 1 perc.
- b) Legalább 4 másodperc.
- c) Legalább 15 másodperc.
- 

Hibapontok száma (1. oldal): .....

**10. Mely közlekedési helyzet tekinthető hajók keresztezésének ?**

- a) A két hajó nem halad egymáshoz viszonyított ellentétes, vagy közel ellentétes irányban, és egyik hajó sem közelíti a másikat úgy hátulról, hogy azt annak keresztsíkjaához viszonyított  $22^{\circ}30'$  értéket meghaladó szögben lássa, majd megelőzze.
- b) Az oldalirányból történő megközelítés.
- c) A két hajó nem halad egymáshoz viszonyított ellentétes, vagy közel ellentétes irányban, és egyik hajó sem közelíti a másikat úgy, hogy annak keresztsíkjaához viszonyított  $22^{\circ}30'$  értéket meghaladó szögben lássa, majd mellette elhaladjon.

**11. Milyen közlekedési szabályt kell alkalmazni, ha a tavon egy hajón két csúcsával érintkező fekete kúpot látunk jelzésként és a hajó közelében sárga bóják láthatók ?**

- a) Csökkenteni kell a sebességet a közelében, mert az veszteglő gépi erőt is használó vitorlás hajó.
- b) Legalább 150 m távolságot kell tartani tőle, mert az vonó- vagy kerítőhálóval halászó géphajó.
- c) Legalább 20 m oldaltávolságot kell tartani tőle, és el kell kerülni a hullámkeltést, mert az egy személyeket is szállító tutaj.

**12. Milyen szabály szerint keresztezhető vízi sporteszközzel a menetben levő nagyhajó útvonala ?**

- a) 100 méteren belül tilos.
- b) 500 méteren belül tilos.
- c) 1500 méteren belül tilos.

**13. Milyen úszólétesítmények vehetik igénybe kikötésre a kikötői célokat nem szolgáló úszóművet ?**

- a) A csónak és a vízi sporteszköz.
- b) Kizárólag csónak.
- c) A kishajó és a vízi sporteszköz.

**14. Hogyan jelzik az állandó híd nyílásán való áthaladás tilalmát ?**

- a) Egy vörös fénnel vagy vörös jelzőtáblával (HSZ I-7. melléklet B.1 jelzés).
- b) Egy vagy több vörös fénnel vagy vörös-fehér-vörös jelzőtáblával (HSZ I-7. melléklet A.1 jelzés).
- c) Nem helyeznek ki áthaladni szabad (HSZ I-7. melléklet E.1) jelzést.

**15. Milyen általános szabályokat kell alkalmaznia a korlátozott látási viszonyok között közlekedő hajónak (vezetőjének) az alábbiak közül ?**

- a) Határozottan intézkednie kell, ha haladását más hajók jelenléte és mozgása, valamint a helyi viszonyok a hajózás biztonságát fenyegetik (pl. kitérésre vagy sebességük csökkentésére felszólítani, vagy kellő időbe megelőzni azokat).
- b) Haladéktalanul meg kell állnia, ha a láthatóság csökkenése, más hajók jelenléte és mozgása, valamint a helyi viszonyok a hajózás biztonságát fenyegetik.
- c) A hajóút menetirány szerinti jobb szélén kell haladnia és onnan csak akkor szabad kitérnie, ha megállásról döntött. A menetirány szerinti bal oldalon levő veszteglőhelyre csak akkor hajózhat át, ha a másik irányból nem közeledik hajó vagy kötélék.

**16. Melyek a vízijármű kölcsönzésére vonatkozó HSZ által meghatározott legfontosabb szabályok az alábbiak közül ?**

- a) Vízijárművet csak vállalkozás adhat bérbe vagy kölcsön, amelyről nyilvántartást köteles vezetni.
- b) Nem üzletszerű használatba adás esetén - ha annak vezetése képesítéshez kötött - a vízijárművet használatba adónak a vízijármű nyilvántartási számát vagy azonosító jelét, az igénybevétel kezdetét és végét, valamint a bérlő személyi adatait nyilatkozatba kell foglalni.
- c) Nem üzletszerű használatba adást - ha annak vezetése képesítéshez kötött - a vízijárművet használatba adónak lemondó nyilatkozatba kell foglalni.

**17. Milyen biztonsági szabályt kell betartania – a HSZ II. része szerint – más szabályok mellett a vízen vontatott személynek ?**

- a) Nem lehet fáradt, vagy hajózásra alkalmatlan állapotban.
- b) Mentőmellényt köteles viselni.
- c) Víziúton mentőmellényt köteles viselni, ha nem tud úszni.

**18. Milyen kötelezettséget ír elő a HSZ annak a hajónak, amely észlelte a „Tartsa magát távol tőlem” jelzést ?**

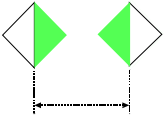


- a) Azonnal meg kell kezdenie a segítségnyújtást.
- b) A fenyegető veszély elhárítására minden lehetséges intézkedést meg kell tennie.
- c) Azonnal eddigi irányával ellentétes irányban kell elindulnia.

**19. Milyen magatartást kell tanúsítania, ha tavon kikötő közelében műveletező személyhajón zöld lobogót lát ?**

- a) Azonnal orvost kell hívni, mert sürgős segítséget kértek.
- b) Elő kell segíteni a személyhajó műveletét.
- c) Csak a lobogóval jelzett oldalon szabad mellette elhaladni.


Hibapontok száma (2. oldal): .....

20. Melyik jelzéssel jelölik az átjáró hajóútjának szélét az alábbiak közül ?

<input type="checkbox"/> a) 	<input type="checkbox"/> b) 	<input type="checkbox"/> c) 
---	---	---


21. Mi a jelentése a következő jelzésnek ?

<input type="checkbox"/> a) Völgymenetben jobbra, hegymenetben balra szabad a fordítás.	<input type="checkbox"/> b) Fordítóhely.	<input type="checkbox"/> c) Limányos (forgós) szakasz.
---	--	--



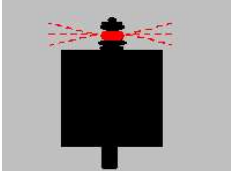
22. Mi a jelentése a következő jelzésnek ?

<input type="checkbox"/> a) A hajóút bal szélét jelző és azt, valamint a víziút bal part felé eső veszélyes helyeit elhatároló jel.	<input type="checkbox"/> b) Az áthajózás ideiglenesen szabad.	<input type="checkbox"/> c) A hajóút átmenetét jelző fényjel, amely az átmenet megkezdésére figyelmeztet.
---	---	---



23. Mi a jelentése a következő jelzésnek ?

<input type="checkbox"/> a) Jobbparti éjszakai irányjel a hajóút parthoz viszonyított megközelítő irányának jelzésére.	<input type="checkbox"/> b) A jobb parton veszteglőhely kezdetét és végét jelző éjszakai jelzés.	<input type="checkbox"/> c) Veszélyes helyet jelző éjszakai jelzés.
--	--	---

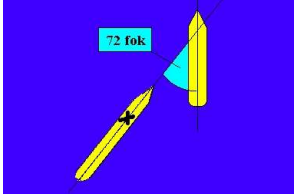


Hibapontok száma: .....

Súlyozott (3 pontos kérdések):

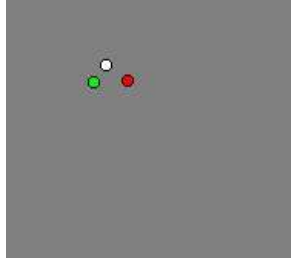
24. Milyen jelzőfény(eke)t lát az X-el jelölt helyről nézve a másik géphajón (amely nem kishajó) ?

<input type="checkbox"/> a) Egy fehér, attól jobbra alacsonyabban egy vörös fényt.	<input type="checkbox"/> b) Egy fehér, attól jobbra magasabban egy vörös fényt.	<input type="checkbox"/> c) Egy fehér fényt.
--	---	--



25. Milyen hajó(k) vagy kötelék(ek) jelzőfényei láthatók a képen ?

<input type="checkbox"/> a) 110 m-nél hosszabb két géphajóból és egy gépnélküli hajóból álló menetben levő mellévelt alakzat.	<input type="checkbox"/> b) Közel szemből jövő menetben levő magányos géphajó.	<input type="checkbox"/> c) Vontatmány élén haladó szemből jövő menetben levő géphajó (amely nem kishajó) vagy magányos géphajó.
---	--	--



26. Milyen szabályt kell alkalmazni arra az estre, ha két egymás útját keresztező kishajó olyan irányban halad, hogy az összeütközés veszélye jöhet létre ?

<input type="checkbox"/> a) Az a hajó, amelyik a másik hajót a saját bal oldala felől látja, köteles a másik hajó útjából kitérni, és ha a körülmények lehetővé teszik, az útvonal keresztezését a lehető leggyorsabban be kell fejeznie.	<input type="checkbox"/> b) Az a hajó, amelyik a másik hajót a saját jobb oldala felől látja, köteles a másik hajó útjából kitérni, és ha a körülmények lehetővé teszik, el kell kerülnie az útvonal keresztezését a másik hajó előtt.	<input type="checkbox"/> c) Annak a hajónak, amelyik a másik hajót a saját jobb oldala felől látja, el kell kerülnie az útvonal keresztezését a másik hajó előtt.
---	--	---

Hibapontok száma x 3 pont:.....

Hibapontok száma a 3. oldalon összesen: .....