

1. Mikor térhet el a hajó vezetője a HSZ-ben foglaltaktól ?

- a) A közvetlenül fenyegető veszély elhárítása érdekében.
 b) Nem térhet el, mert az a jogszabály megsértését jelentené.
 c) Bármikor, ha az előírások korlátozzák a minél gazdaságosabb hajózást.

2. Melyik 20 méternél kisebb testhosszúságú hajó nem minősül kishajónak ?

- a) Az úszómű.
 b) Amelyen 20 főnél több utas szállítását engedélyezték és hosszabb 15 méternél.
 c) Amelyen 12 főnél több utas szállítását engedélyezték.

**3. Válassza ki azt az előírást, amely a legalább 7 m hosszúságú kisgéphajóra alkalmazható !
A kisgéphajónak menetben viselnie kell:**

- a) egy közepesen erős árbocfényt a hajó hossz tengelyében, az oldalfényekkel azonos magasságban, szokásos oldalfényeket, egy fehér farfényt.
 b) egy erős árbocfényt a hajó hossz tengelyében, legalább 1 m-rel az oldalfények felett, szokásos oldalfényeket, egy sárga farfényt.
 c) egy szokásos minden oldalról látható fényt a hajó hossz tengelyében, legalább 1 m-rel az oldalfények felett, szokásos oldalfényeket, egy fehér farfényt.

4. Milyen hajózási zónákat határoz meg a HSZ ?

- a) "A" zóna, 5 m hullámmagasságig; "B" zóna, 3 m hullámmagasságig; "C" zóna, 1 m hullámmagasságig.
 b) "I." zóna, 5 m hullámmagasságig; "II." zóna, 3 m hullámmagasságig; "III." zóna, 1 m hullámmagasságig.
 c) "1" zóna, 2 m hullámmagasságig; "2" zóna, 1,2 m hullámmagasságig; "3" zóna, 0,6 m hullámmagasságig.

5. Mire következtet abból, ha az Önnel szemben haladó hajón egy sárga kettőskúpot lát ?

- a) A hajó 20 m-nél kisebb testhosszúságú és 12 főnél nagyobb engedélyezett utaslétszámú.
 b) A hajón fertőző beteg tartózkodik.
 c) A hajó vontat valamit.

6. Mire következtet abból, ha egy hajó járóján egy fehér színű, kör alakú, vörössel szegélyezett, vörös vonallal átlósan áthúzott és a közepén fekete színű füstölgő cigarettát ábrázoló táblát lát ?

- a) A hajón a dohányzás vagy a nyílt láng használata tilos.
 b) A hajón nyílt lánggal rágyújtani tilos.
 c) Dohányzás elleni küzdelmet támogató tábla.

7. Milyen fényjelzéssel jelezheti a hajó - egyéb jelzésein kívül - azt, hogy műveletképtelen ?

- a) Egy lengetett vörös fényt kell mutatnia.
 b) Fényszóró csóválásával.
 c) Fényszóró villogtatásával.

8. Milyen magatartási szabályt ír elő a HSZ I. része a vízisielő és hajó használata nélküli vízi sportot folytató személy számára ?

- a) Kellő távolságot kell tartania minden hajótól, úszóanyagok kötelékétől, továbbá a munkát végző úszómunkagéptől.
 b) Kellő távolságot kell tartania a menetben levő hajótól, úszóanyagok kötelékétől, továbbá a munkát végző úszómunkagéptől.
 c) Kizárólag a part közelében, hajóúton kívül közlekedhet.

9. Látható-e a találkozásban levő hajóról a másik találkozásban résztvevő hajó farfénye ?

- a) Igen végig.
 b) Nem.
 c) Igen, a találkozás befejezésétől.

10. Milyen szabályt kell alkalmazni munkát végző úszómunkagép melletti elhajózás során, ha annak egyik oldalán egy vörös fényt vagy gömböt helyeztek el ?

- a) Azon az oldalon tilos elhajózni mellette.
- b) A sebesség olyan mértékű csökkentésével, hogy hullámkeltéssel ne veszélyeztessék a munkavégzést.
- c) Egy hosszú hangjelzést percenként ismételni kell az elhaladásig.

11. Mely általános közlekedési szabályt kell követnie az alábbiak közül a korlátozott látási viszonyok következtében megállásra kényszerülő hajónak ?

- a) A lehetőségekhez mérten fel kell szabadítani a hajóutat.
- b) Közvetlenül a part mellé kell állnia és erről folyamatosan (percenként) tájékoztatnia kell a térségben közlekedő hajókat.
- c) A hajó mellett a hajóút felől – legalább 15 méterre a hajótól - el kell helyeznie egy radarreflektorral felszerelt sárga úszót.

12. Milyen kötelezettséget ír elő a HSZ annak a hajónak, amely észlelte a „Tartsa magát távol tőlem” jelzést ?

- a) Neki is be kell kapcsolnia a „Tartsa magát távol tőlem” jelzést.
- b) Azonnal meg kell kezdenie a jelzést leadó hajó személyzetének mentését.
- c) Haladéktalanul értesítenie kell a legközelebbi illetékes hatóságot.

13. Milyen kiegészítő lehetőséget ad a bejelentési kötelezettség teljesítésére veszélyt jelentő akadály észlelése esetén a HSZ II. rész szerint az alábbiak közül ?

- a) Hangjelzéssel is lehet jelezni, ha a vízrendészeti szervek hallótávolságban vannak.
- b) Más hajóval lehet üzenetet küldeni a víziutat fenntartó szervnek.
- c) A hajózási hatóság által hajósoknak szóló hirdetményben meghirdetett hajózási információs és segélykérést fogadó rádióállomáson keresztül.

14. Milyen biztonsági szabályt kell alkalmazni a vízen levő (közlekedő vagy veszteglő) csónakban tartózkodóknak ?

- a) Mindenki köteles mentőmellényt viselni.
- b) Az úszni nem tudók kötelesek mentőmellényt viselni.
- c) Az úszni nem tudók és a kiskorúak kötelesek mentőmellényt viselni.

15. Milyen közlekedési szabályokat kell alkalmazni zsilipen való áthaladás során a csónaknak és a víz sporteszköznek ?

- a) A zsilip előkikötőből kötelesek bejelentkezni a zsilip személyzetének és adataikat (hajó neve, lobogója, hossza, szélessége, hívójele, a hajón tartózkodó személyek száma) bejelenteni.
- b) Külön zsilipelésre nem tarthatnak igényt, a zsilipszemélyzet értesítése után hajózhatnak be a zsilipkamrába.
- c) Elsőként hajóznak a zsilipbe és ott a lehető legnagyobb helyet kötelesek biztosítani a többi hajó számára.

16. Milyen közlekedési szabály vonatkozik a vitorlás vízi sporteszközre a hajóútszűkületben?

- a) Tilos ilyen helyre behajózni.
- b) Találkozás esetén jobbra kell tartania.
- c) Biztonságos sebességgel a lehető legrövidebb idő alatt köteles áthaladni.

17. Milyen vízijármű közeledésére számít korlátozott látási viszonyok között tapon, ha két hosszú hangot hall rendszeresen ismételve ?

- a) Radarral közlekedő kötélkre vagy mellévett alakzatra.
- b) Radarral közlekedő magányos hajóra.
- c) Radarral közlekedő kompra.


18. Milyen közlekedési szabályt kell alkalmazni, ha a tapon egy hajón két csúcsával érintkező fekete kúpot látunk jelzésként és a hajó közelében sárga bóják láthatók ?

- a) Csökkenteni kell a sebességet a közelében, mert az veszteglő gépi erőt is használó vitorlás hajó.
- b) Legalább 150 m távolságot kell tartani tőle, mert az vonó- vagy kerítőhálóval halászó géphajó.
- c) Legalább 20 m oldaltávolságot kell tartani tőle és el kell kerülni a hullámkeltést, mert az egy személyeket is szállító tutaj.

19. Milyen biztonsági szabályokat kell alkalmazni, ha hajó (kivéve géphajó) köteles komp átkelőhelyéhez érkezik ?


- a) Hangos kiáltással kell időben köteles figyelmeztetni a komp személyzetét a hajóút felszabadítására (pl. alacsony vezetőségű kompkötél leeresztésére).
- b) A komp feletti várakozóhelyen meg kell állnia és a kötél leeresztése után haladhat tovább.
- c) Sárga villogó fénnel kell jeleznie a komp részére, hogy át kíván haladni.

20. Melyik jelzéssel hívja fel a figyelmet a HSZ a parthoz kikötve vagy horgonyon veszteglésre ajánlott helyre ?

a) 
 b) 
 c) 

21. Mi a jelentése a következő jelzésnek ?

- a) A hajóút jobb szélét jelző és azt, valamint a víziút jobbpárt felé eső veszélyes helyeit elhatároló karó.
 b) A hajóútban található pontszerű akadályt jelző karó.
 c) Áthaladás tilalmát jelző karó.



22. Melyik jelzéssel közlik a vitorlás hajóval közlekedés tilalmát ?

a) 
 b) 
 c) 

23. Melyik tavi úszó jel látható itt ?

- a) Északi kardinális.
 b) Különálló veszélyes helyeket jelző jel.
 c) A hajóút tengelyét jelző jel.

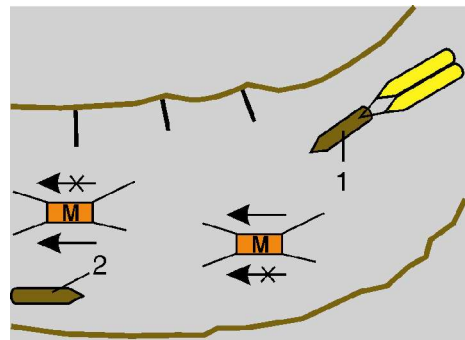


Hibapontok száma:

Súlyozott (3 pontos kérdések):

24. Milyen jelzőfények láthatók a képen látható 1. pontból jobbról balra nézve (M = úszómunkagép; G = géphajó; az áthúzott nyíl felől az elhajózás tilos, az át nem húzott nyíl oldalán szabad) ?

- a) Egy vörös, egy zöld (azonos magasságban); egy vörös, egy fehér; azonos magasságban) egy zöld és egy vörös fény.
 b) Egy vörös, két egymás feletti zöld; egy vörös, egy fehér; két egymás feletti zöld, egy vörös fény.
 c) Két vörös, két zöld (egymás felett); egy vörös, egy fehér; két egymás feletti zöld, és vörös fény.

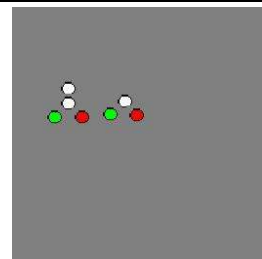


25. Milyen általános szabály vonatkozik a csónakra, vízi sporteszközre és kishajóra, ha azok egymás útvonalát keresztezik ?

- a) A balról érkezőnek van elsőbbsége.
 b) A jobbról érkezőnek van elsőbbsége.
 c) Mindkettőnek jobbra kell tartania.

26. Milyen hajó(k) vagy kötelék(ek) jelzőfényei láthatók a képen ?

- a) Egy szemből jövő menetben levő vontatott kötelék, mellette egy magányos géphajó.
 b) Vontatmányt egyidejűleg továbbító vontatóhajók (a fő vonóerőt a jobboldali hajó adja).
 c) Mellévett alakzatban közlekedő géphajók.



Hibapontok száma x 3 pont:.....

Hibapontok száma összesen: